

1. Решите систему неравенств

$$\begin{cases} 5x + 13 \leq 0, \\ x + 5 \geq 1. \end{cases}$$

На каком рисунке изображено множество её решений?
 В ответе укажите номер правильного варианта.

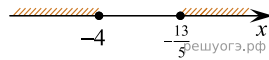
1)



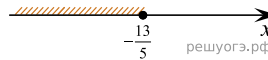
2)



3)



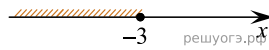
4)




2. Решите систему неравенств $\begin{cases} x^2 \leq 4, \\ x + 3 \geq 0. \end{cases}$

На каком из рисунков изображено множество её решений?
 В ответе укажите номер правильного варианта.


1)




2)



3)



4)



3. Найдите наибольшее значение x , удовлетворяющее системе неравенств

$$\begin{cases} 6x + 18 \leq 0, \\ x + 8 \geq 2. \end{cases}$$

4. Найдите наибольшее значение x , удовлетворяющее системе неравенств

$$\begin{cases} 2x + 12 \geq 0, \\ x + 5 \leq 2. \end{cases}$$

5. Найдите наибольшее значение x , удовлетворяющее системе неравенств

$$\begin{cases} 5x + 15 \leq 0, \\ x + 5 \geq 1. \end{cases}$$

6. Решите систему неравенств $\begin{cases} x > 3, \\ 4 - x > 0. \end{cases}$

На каком рисунке изображено множество её решений?
 В ответе укажите номер правильного варианта.

1)



2) система не имеет решений

3)




4)



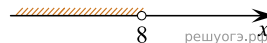
7. На каком рисунке изображено множество решений системы неравенств

$$\begin{cases} -35 + 5x > 0, \\ 6 - 3x > -18? \end{cases}$$

1)

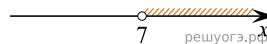


2)



3) система не имеет решений

4)



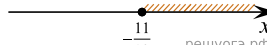
8. Укажите решение системы неравенств:

$$\begin{cases} x + 3 \geq -2, \\ x + 1,1 \geq 0. \end{cases}$$


1)



2)



3)



4)



9. Укажите решение системы неравенств:

$$\begin{cases} x - 4 \geq 0, \\ x - 0,3 \geq 1. \end{cases}$$


1)




2)



3)



4)



10. Укажите решение системы неравенств:

$$\begin{cases} -35 + 5x < 0, \\ 6 - 3x > -18 \end{cases}$$

1) $(7; 8)$

2) $(-\infty; 7)$

3) $(-\infty; 8)$

4) $(7; +\infty)$